

Nazwisko	Imię	Szkoła	Liczba punktów (wypełnia sprawdzający)



XXI LICEUM OGÓLNOKSZTAŁCĄCE

im. św. St. Kostki w Lublinie

MIĘDZYSZKOLNY KONKURS GEOGRAFICZNY

DLA GIMNAZJALISTÓW

„WĘDRUJEMY PO MAPIE ŚWIATA”

Część I

Czas pracy: 30 minut

19 MARZEC

Liczba punktów możliwych

ROK 2011

do uzyskania: **35**

- ❖ Arkusz liczy 9 stron (numerowanych) i zawiera 21 zadań.
- ❖ Przed rozpoczęciem pracy sprawdź czy Twój test jest kompletny. Jeżeli zauważysz usterki, zgłoś je Komisji Konkursowej.
- ❖ W pytaniach w formie testu wyboru wybierz jedną poprawną odpowiedź i ją zakreśl.
- ❖ W pozostałych pytaniach udzielaj krótkich odpowiedzi lub właściwie przyporządkuj podane wyrazy.
- ❖ Pisz długopisem bądź piórem. Nie używaj korektora.

Życzymy powodzenia!

MIĘDZYSZKOLNY KONKURS GEOGRAFICZNY DLA GIMNAZJALISTÓW
„WĘDRUJEMY PO MAPIE ŚWIATA”

Zad.1 (0 – 1p)

Generalizacja mapy polega na:

- a) uszczegółowieniu treści mapy
- b) uogólnieniu treści mapy
- c) orientowaniu mapy według obiektów w terenie
- d) zwiększeniu skali mapy

Zad.2 (0 – 1p)

Uporządkuj podane skale od najmniejszej do największej:

- A. 1:10 000
- B. 1cm – 0,5 km
- C. 1: 25 000
- D. 1cm – 1 km

Odpowiedź:

Zad.3 (0 -1p)

Linie na mapie, łączące punkty o jednakowej wartości sumy opadów to:

- a) izohele
- b) izohaliny
- c) izohiety
- d) izobaty

Zad.4 (0 – 1p)

Szerokość geograficzna to:

- a) Kąt zawarty między płaszczyzną południka 0° a płaszczyzną południka na którym leży interesujący nas punkt
- b) Kąt zawarty między płaszczyzną równika i pionem przechodzącym przez dany punkt na powierzchni Ziemi
- c) Kąt zawarty między płaszczyzną równika i płaszczyzną południka na którym leży interesujący nas punkt
- d) Kąt zawarty między płaszczyzną południka a promieniem Ziemi poprowadzonym z interesującego nas punktu

Zad. 5 (0 – 1p)

Położone w Andach największe z wysokogórskich jezior na Ziemi to:

.....

MIĘDZYSZKOLNY KONKURS GEOGRAFICZNY DLA GIMNAZJALISTÓW
„WĘDRUJEMY PO MAPIE ŚWIATA”

Zad. 6 (0 – 5p)

Na mapce zaznaczono cyframi od 1 do 5 pustynie. Przyporządkuj ich nazwy do odpowiednich numerków.



- A – Pustynia Namib B – Pustynia Gobi C – Wielka Kotlina
D – Pustynia Atacama E – Pustynia Gibsona

1.
2.
3.
4.
5.

Zad. 7 (0 – 1p)

Które z wymienionych niżej miast Polski leży w obrębie krainy geograficznej o nazwie Pojezierze Mazurskie:

- a) Gniezno
b) Skierniewice
c) Giżycko
d) Wieluń

Zad. 8 (0 – 1p)

Wyływa z Sudetów, płynie przez Nizinę Niemiecką, uchodzi do Morza Północnego:

- a) Wezera
b) Łaba
c) Izera
d) Nysa Łużycka

MIĘDZYSZKOLNY KONKURS GEOGRAFICZNY DLA GIMNAZJALISTÓW
„WĘDRUJEMY PO MAPIE ŚWIATA”

Zad. 9 (0 – 1p)

Elbrus to najwyższy szczyt gór o nazwie:

- a) Kaukaz
- b) Pireneje
- c) Apeniny
- d) Atlas

Zad. 10 (0 – 1p)

Który z wymienionych niżej półwyspów należy do Ameryki Północnej:

- a) Płw. Jork
- b) Płw. Ungava
- c) Kamczatka
- d) Płw. Kanin

Zad.11 (0 – 1p)

Cieśnina oddzielająca Azję od Ameryki Północnej nazywa się:

Cieśnina

Zad. 12 (0 – 1p)

Zatoka u zachodnich wybrzeży Afryki Równikowej nazywa się:

Zatoka

Zad. 13 (0 – 1p)

Zaliczany do Azji półwysep między zatokami: Sueską i Akaba to:

Półwysep

Zad. 14 (0 -1p)

Wyspa położona na północ od Półwyspu Labrador; od Grenlandii oddziela ją m.in.

Cieśnina Davisa to:

- a) W – pa Ks. Walii
- b) Nowa Fundlandia
- c) Ziemia Baffina
- d) W – pa Ellesmere’a

MIĘDZYSZKOLNY KONKURS GEOGRAFICZNY DLA GIMNAZJALISTÓW
„WĘDRUJEMY PO MAPIE ŚWIATA”

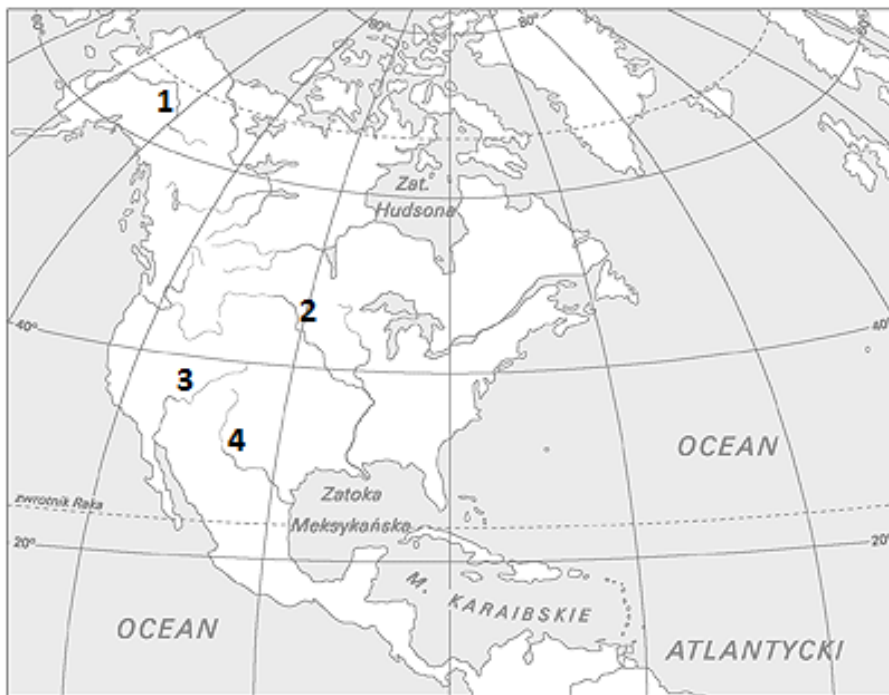
Zad. 15 (0 -4p)

Przyporządkuj nazwę kontynentu do poszczególnych łańcuchów górskich (na których one znajdują się):

A – Afryka B – Ameryka Północna C – Europa D – Australia E – Azja

1. Góry Nadbrzeżne
2. Góry Przyłdkowe
3. Góry Jabłonowe
4. Góry Betyckie

Zad. 16 (0 – 4p)



Podaj nazwy rzek, które oznaczono na mapce numerami:

1.
2.
3.
4.

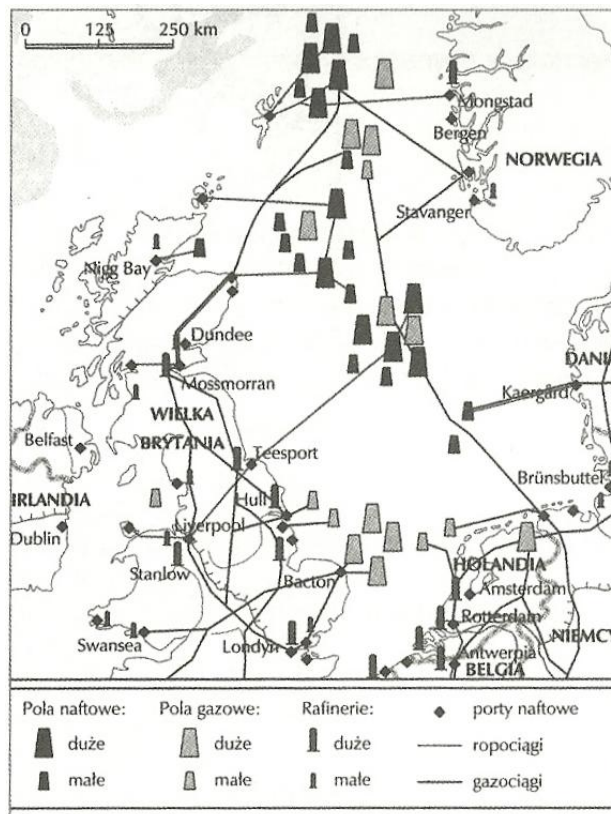
MIĘDZYSZKOLNY KONKURS GEOGRAFICZNY DLA GIMNAZJALISTÓW
„WĘDRUJEMY PO MAPIE ŚWIATA”

Zad. 17 (0 – 2p)

Spośród podanych niżej nazw metod przedstawiania zjawisk na mapie wybierz te, które zastosowano na poniższych mapkach:

- A. kartogramu
- B. kartodiagramu
- C. izolinii
- D. sygnaturowa


Mapka 1



metoda

MIĘDZYSZKOLNY KONKURS GEOGRAFICZNY DLA GIMNAZJALISTÓW
„WĘDRUJEMY PO MAPIE ŚWIATA”

Mapka 2



metoda

Zad. 18 (0 – 1p)

Która z wymienionych cech nie jest cechą południków:

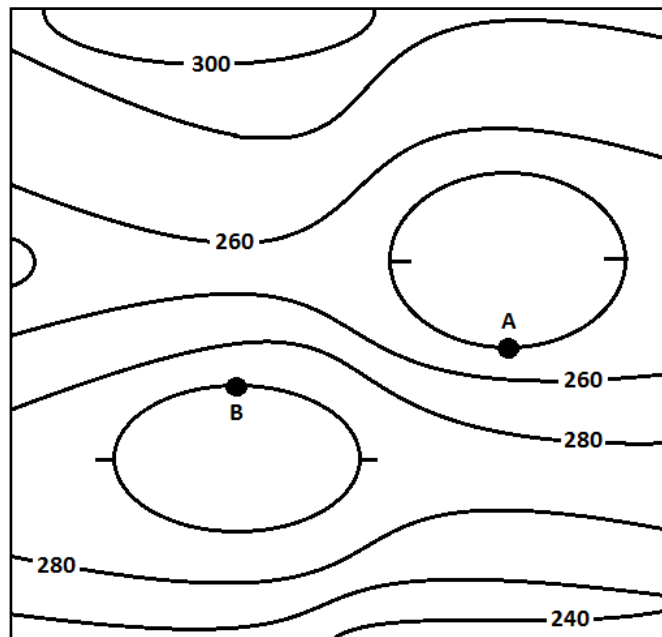
- a) mają kształt półokręgów
- b) jest ich nieskończenie wiele
- c) zmniejszają się wraz z odległością od równika
- d) przecinają się pod kątem prostym z równoleżnikami (na Ziemi i na globusie)

Zad. 19 (0 – 1p)

W której grupie wymienionych państw wszystkie należą do państw naddunajskich:

- a) Austria, Niemcy, Szwajcaria
- b) Rumunia, Bułgaria, Węgry
- c) Rumunia, Serbia, Chorwacja
- d) Bułgaria, Mołdawia, Ukraina

Zad. 20 (0 – 3p)



a) Podaj wartości poziomicy na których znajdują się punkty **A** i **B**:

A m n.p.m

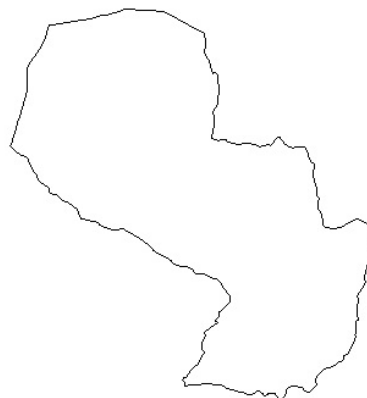
B m n.p.m

b) Wysokość względna punktu **B** względem punktu **A** wynosi:

.....

21. (0 – 2p)

Rozpoznaj kontur państwa Ameryki Południowej i podaj jego stolicę.



a) nazwa państwa

b) nazwa stolicy

BRUDNOPIS